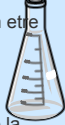
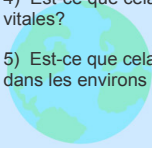


Est-ce vivant?

Chaque fois que tu essaies de décider si quelque chose est un être vivant pose-toi les questions suivantes:

- 1) Est-ce que cela peut croître et se développer?
- 2) Est-ce que cela peut se reproduire pour en produire plus de la même espèce?
- 3) Est-ce que cela peut créer sa nourriture, comme le fait la plante, ou est-ce que cela peut se procurer de la nourriture au moyen de la chasse ou du pâturage?
- 4) Est-ce que cela peut grâce à la nourriture, aider ses fonctions vitales?
- 5) Est-ce que cela peut sentir des choses vivantes et non vivantes dans les environs immédiats, et y réagir?

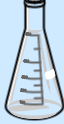

Nov 7-9:36 PM

Vocabulaire pour le test:

Arthropode / Insecte / Arachnide / Trilobite / Crustacé

Système de classification
arthropodes
clé d'identification
Mécanisme d'adaptation
Espèce
êtres vivants
objets non-vivants
biotique
abiotique

* Clé d'identification des arthropodes
* Est-ce vivant? 5 caractéristiques...


Nov 7-9:36 PM

Avec tes notes, complète le tableau suivant avec la liste de mots ci-dessous.

Papillons
Araignées
Crustacés
Scorpions
Homards
Trilobites
Arthropodes

1. Arthropodes

Insectes	2. Trilobites	Arachnides	3. Crustacés
- Fourmis	- Animaux disparus	5. araignées	- Crevettes
4. papillons		6. scorpion	7. Homards



Jan 13-8:06 PM

Quiz leçons 1,2 et 4 Nom : _____ /10

1. Vrai ou faux (3)
 - a. Tous les êtres vivants bouge évidemment. ___
 - b. Un biologiste étudie les objets non-vivants. ___
 - c. Un robot est un être vivant. ___
2. Nommez 3 êtres vivants. (3)
3. Nommez deux objets non-vivants. (2)
4. Nommez 2 caractéristiques que tous les êtres vivants ont de commun. (2)

Nov 2-6:38 PM

Quiz de leçons 5 et 6 Nom: _____ /10

Vrai ou faux (5)

1. Presque la moitié des êtres vivants appartiennent au groupe des arthropodes. ✓
2. Un ver de terre fait parti du groupe des arthropodes. ✓
3. Une clé d'identification aide les biologistes à identifier certains animaux. ✓
4. La branche des arthropodes est divisée en 3 groupes. ✓
5. Les insectes ont 2 paires de pattes. ✓

Jeu d'assemblage (5)

1. exosquelette	a. fourmis
2. trilobites	b. scorpions
3. arachnides	c. crabes
4. crustacés	d. coque dure à l'extérieur d'un animal
5. insectes	e. animaux disparus.

Quiz de leçons 5 et 6 Nom: _____ /10

Vrai ou faux (5)

1. Presque la moitié des êtres vivants appartiennent au groupe des arthropodes. ___
2. Un ver de terre fait parti du groupe des arthropodes. ___
3. Une clé d'identification aide les biologistes à identifier certains animaux. ___
4. La branche des arthropodes est divisée en 3 groupes. ___
5. Les insectes ont 2 paires de pattes. ___

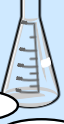

Jeu d'assemblage (5)

1. exosquelette	a. fourmis
2. trilobites	b. scorpions
3. arachnides	c. crabes
4. crustacés	d. coque dure à l'extérieur d'un animal
5. insectes	e. animaux disparus.

Jan 17-10:05 AM

Tu gagnes un billet si tu sais...
Vrai ou faux

- 1) Les homards font partis de la classe des insectes. Faux RÉPONSE
- 2) Les arthropodes sont divisés en 4 classes. Vrai RÉPONSE
- 3) Les araignées font partis de la classe des arthropodes. Vrai RÉPONSE
- 4) La classe des insectes est la classe des arthropodes la plus petit. Faux RÉPONSE
- 5) Nous sommes une espèce vivante. Vrai RÉPONSE
- 6) Une différence retrouvée entre les animaux est leurs caractéristiques structurelles. Vrai RÉPONSE

Nov 7-9:36 PM